





Name:

Schaubilder

Einigen Bauern in Mönchdorf wurde aufgetragen zu schätzen, wie viele Bäume sich in ihren Wäldern befinden. Die Ergebnisse wurden in der Tabelle unten dargestellt. Kannst du die Anzahlen erkennen?

Bauer Fichtinger		
Bauer Ahorner		
Bauer Eichinger		
Bauer Buchinger		4030
Bauer Lärcher		



= 1 000 Bäume



= 100 Bäume



= 10 Bäume

Im SU-Buch ist die Länge einiger Flüsse Österreichs mit diesem Schaubild dargestellt. Findest du die Längen heraus und kannst sie auch selbst einzeichnen? (Längen mit Ziffern an der Einer-Stelle musst du runden)

Donau		2850 km
Inn		517 km
Salzach		227 km
Große Mühl		70 km



= 500 km



= 100 km



= 10 km